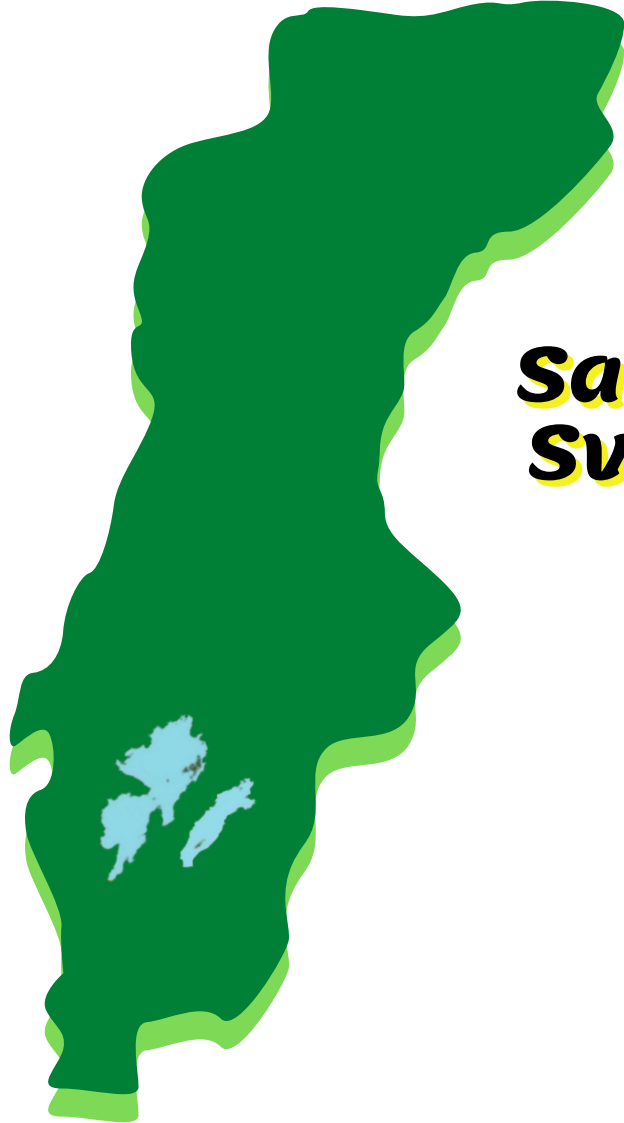




**Sant eller falskt om
Sveriges landskap.**

Skapat av Gullis lästips



**Sant eller falskt om
Sveriges landskap.**

**En enkel frågesport
med tio frågor där
elever mellan åk 4 - 6
svarar om påstående
är sant eller falskt.
Sista dokumentet
innehåller svaren.**



**Sant eller falskt om
Sveriges landskap.**

**1. Vättern ligger
öster om Vänern.**

Sant eller falskt?



**Sant eller falskt om
Sveriges landskap.**

**2. Medelpad ligger
norr om Härjedalen.**

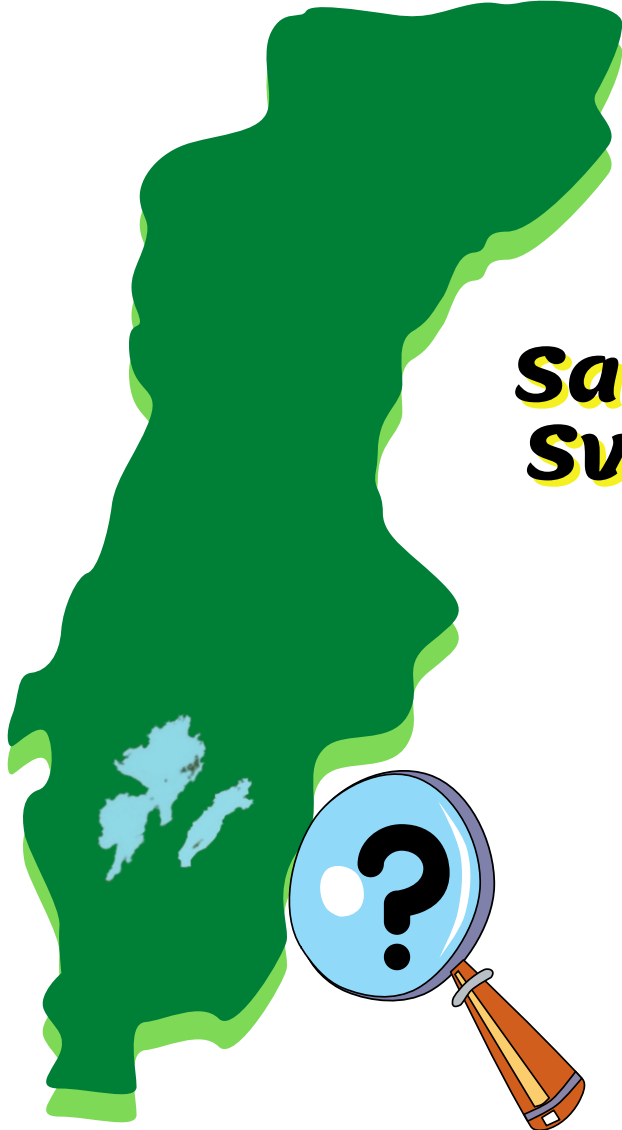
Sant eller falskt?



**Sant eller falskt om
Sveriges landskap.**

**3. Till ytan är Närke
större än Uppland.**

Sant eller falskt?



**Sant eller falskt om
Sveriges landskap.**

**4. Öland ligger norr
om Gotland.**

Sant eller falskt?



**Sant eller falskt om
Sveriges landskap.**

**5. Det ingår sex
landskap i
landsdelen
Svealand.**

Sant eller falskt?



**Sant eller falskt om
Sveriges landskap.**

**6. Lidköping ligger i
Västergötland.**

Sant eller falskt?



**Sant eller falskt om
Sveriges landskap.**

**7. Dalsland ligger
väster om Vänern.**

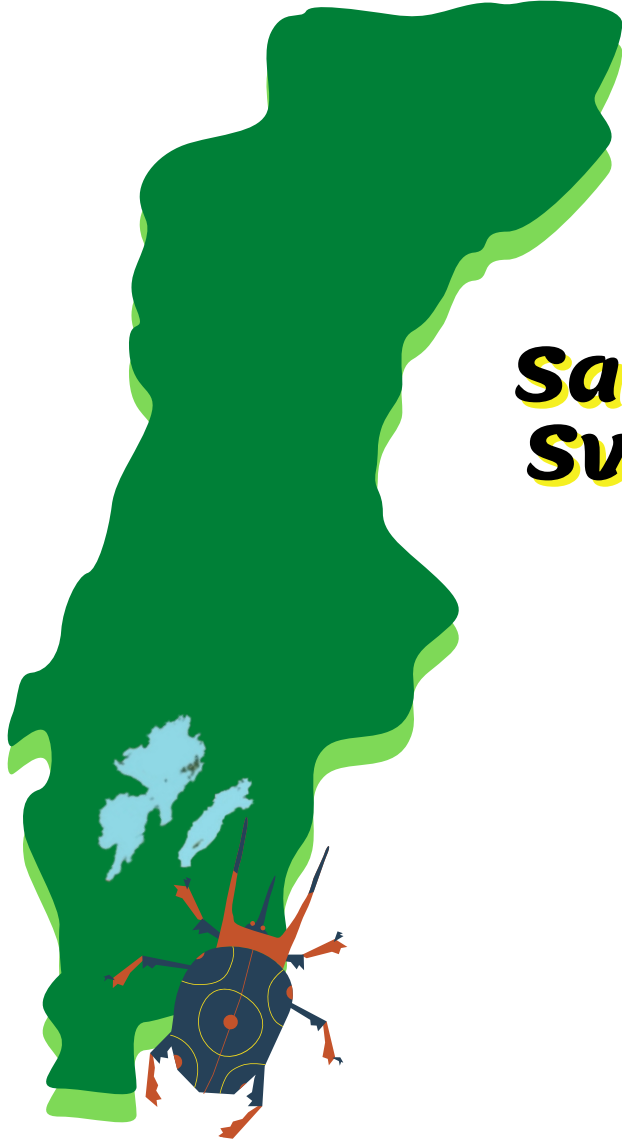
Sant eller falskt?



**Sant eller falskt om
Sveriges landskap.**

**8. Medelpad har
kust som ligger mot
Östersjön.**

Sant eller falskt?



**Sant eller falskt om
Sveriges landskap.**

**9. Ekoxen är
Blekinges
landskapsdjur.**

Sant eller falskt?

**Sant eller falskt om
Sveriges landskap.**



**10. Bohuslän har
fiskar på sitt
landskapsvapen.**

Sant eller falskt?

**Sant eller falskt om
Sveriges landskap.**



SVAR!

- 1. Sant**
- 2. Falskt**
- 3. Falskt**
- 4. Falskt**
- 5. Sant**
- 6. Sant**
- 7. Sant**
- 8. Sant**
- 9. Sant**
- 10. Falskt**