




Udda och jämna tal



Vilka påsar med äpplena kan Kalle och Lisa dela lika på om de ska få lika många hela äpplena var?

Dela upp äpplena i påsarna!





Kalle

Lisa





Kalle

Lisa



Kalle

Lisa



Kalle

Lisa

Ringa in alla jämna tal.

1

2

3

4

5

6

7

8

9

10

Ser du något mönster?

Addera udda och jämna tal

Slå två tärningar, addera talen.



Blir svaret udda eller jämnt?

$$\underline{\quad\quad} + \underline{\quad\quad} = \underline{\quad\quad}$$

$$\underline{\quad\quad} + \underline{\quad\quad} = \underline{\quad\quad}$$

$$\underline{\quad\quad} + \underline{\quad\quad} = \underline{\quad\quad}$$

$$\underline{\quad\quad} + \underline{\quad\quad} = \underline{\quad\quad}$$

$$\underline{\quad\quad} + \underline{\quad\quad} = \underline{\quad\quad}$$

$$\underline{\quad\quad} + \underline{\quad\quad} = \underline{\quad\quad}$$

$$\underline{\quad\quad} + \underline{\quad\quad} = \underline{\quad\quad}$$

Vad ser du för mönster?

Hjälp Scrat att hitta tillbaka till sin nöt. Måla hur han ska gå. Han får bara gå på jämna tal, annars spricker isen...

2	4	9	5	7	1	5	3	11	7
1	6	7	3	1	9	3	1	4	0
3	8	3	6	8	10	5	9	6	5
5	10	4	12	1	2	11	2	10	11
7	9	3	5	9	6	5	4	1	3
9	6	0	8	10	6	3	8	9	11
11	4	11	9	7	5	1	4	5	7
1	2	10	6	4	2	0	10	1	3

När sista siffran i ett tal är jämnt är även talet jämnt. När sista siffran i ett tal är udda är talet udda. Fyll på med udda tal.

123	
	19
485	

