

Läs och knåpa



Kroppen

hår

arm

hand

mage


öga

öra

ben


fot

Vad heter kroppsdelarna? Skriv på raderna.



Body

Vad heter kroppsdelarna på engelska?



hair

arm

eye

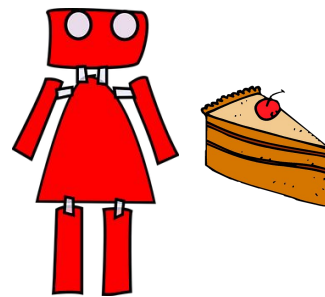
leg

foot

hand

stomach

ear



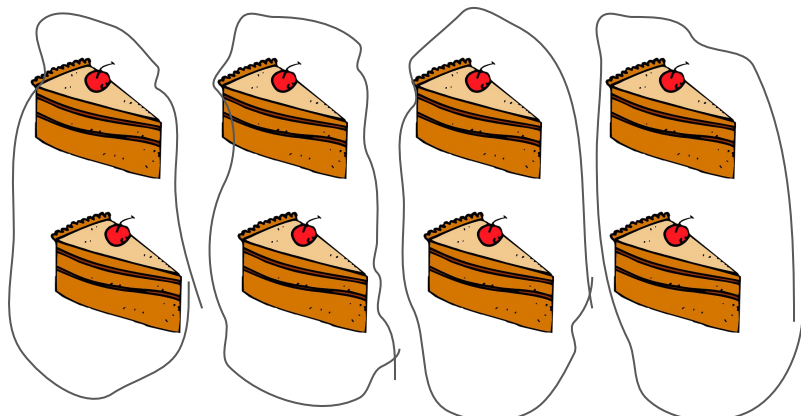
Räkna med roboten Rosa

Rosa älskar tårta så mycket att hon äter flera varje dag. Hon äter 2 tårtbitar på måndag, 2 tårtbitar på tisdag och lika många på onsdag och torsdag

Hur många tårtbitar har hon ätit måndag, tisdag, onsdag och torsdag?

Rita och förklara hur du räknar ut svaret.

När Rosa räknar sina tårtbitar använder hon räknesättet multiplikation. Här ligger de två och två i fyra högar. Man kan säga fyra gånger är det två tårtbitar i varje del.



$$4 \bullet 2 = 8$$

Herr Svensson och hans katt

Skriv fyra meningar till bilden. Använd orden i rutan.

Färglägg bilden.

regn, paraply, katt, väska,
Herr Svensson, stövlar



Numbers - bokstäverna har hamnat huller om buller. Skriv dem rätt. Vissa rutor har en siffra. Skriv den bokstaven i rätt ruta längst ned.

REOZ

ENO

WOT

ETRHE
4

RUFO
2

VIFE

XIS
5

NEESV
1

HIGTE
3

NIEN

NET

1 2 3 4 5




How many candles are there on the cake?



Godismatte

Skriv multiplikationen och räkna ut svaret.



Rita en egen multiplikation med godisar till $3 \cdot 3$

A large empty rounded rectangle with a blue border, intended for drawing a multiplication problem with 3 groups of 3 candies.

Blandad räkning addition och subtraktion

$12 + 3 = \underline{\hspace{2cm}}$

$5 + 11 = \underline{\hspace{2cm}}$

$16 - 2 = \underline{\hspace{2cm}}$

$8 - 4 = \underline{\hspace{2cm}}$

$7 - 5 = \underline{\hspace{2cm}}$

$10 + 9 = \underline{\hspace{2cm}}$

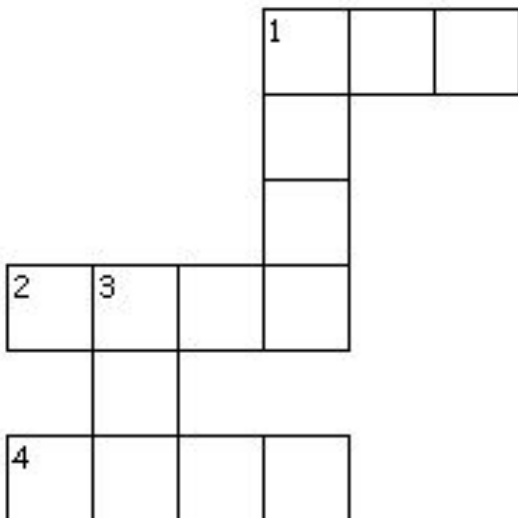
$17 - 5 = \underline{\hspace{2cm}}$

$12 - 3 = \underline{\hspace{2cm}}$

$14 - 1 = \underline{\hspace{2cm}}$

$5 + 7 = \underline{\hspace{2cm}}$

Lös talen och skriv svaren med bokstäver.



Vågrätt

1. 15-10

2. 5+3

4. 2-2

Lodrätt

1. 8-4

3. 5+5

Snabba fakta

Paraply (kommer från franska *parapluie*, som betyder mot regn), *paraflax* eller *regnskärm* är en anordning som skall skydda från regn och består av en hopfällbar skärm med handtag. En liknande anordning som främst är tänkt att ge svalkande skugga mot solen kallas parasoll.

Vid regnväder kan ett paraply vara både ett alternativ och komplement till regnkläder. Särskilt vid utomhusaktiviteter kan regnkläder vara att föredra.

1. Från vilket språk kommer ordet paraply från?

2. Vad heter varianten som används för att ge skugga mot sol?

Rita ditt eget paraply

Snabba fakta

En **prinsesstårta** är en tårta som är gjord av tårtbotten, vispad grädde och vaniljkräm, samt är överdragen med marsipan. En klassisk prinsesstårta innehåller inte sylt, även om det är vanligt förekommande i dag. Marsipanöverdraget är normalt grönt med ett tunt lager florsocker ovanpå och tårtan är ofta dekorerad med en röd marsipanros eller liknande.

1. Vad har man i prinsesstårtan förutom tårtbottnar?

2. Vad är det gröna täcket gjort av?

Rita din egen prinsesstårta

Recept

Chokladbollar

Ingredienser

150 g smör

1, 5 dl strösocker

3 msk kakao

1 tsk vaniljsocker

2 msk kaffe

4 dl havregryn

Gör så här

1. Rör ihop smör och socker.
2. Rör i kakao, vaniljsocker, kaffe och havregryn
3. Forma runda bollar och rulla dem i kokos eller pärlsocker.. Förvara i kylan eller frysen.



Vilka ingredienser använder man till chokladbollar?
