



Vikarieoppgifter

F-3



Till vikarien!

Tack för att du vikarierar i min klass. Här finns allt du behöver ha koll på: klassens schema, lösenord du behöver veta och kontaktuppgifter till eleverna. Här finns även uppgifter du kan välja att göra med klassen. När du tagit en uppgift och kopierat den sätter du ett ex bakom fliken "färdigt".

Ni kan även välja att göra

_____ sid:

_____ sid:

_____ sid:

_____ sid:

_____ sid:

Vår högläsningbok är just nu _____

Läs gärna ett kapitel. Efteråt kan du sammanfatta kapitlet tillsammans med eleverna. Låt eleverna skriva och rita något från kapitlet.

Andra uppgifter ni kan göra runt högläsningboken:

Vilken är din favoritfigur i boken? Skriv och berätta om figurer. Berätta varför den är din favorit. Rita en bild av figuren.

















Skriv och berätta om en plats i boken. Rita platsen.

















Om du fick göra en ny framsida till boken, hur skulle den se ut? Varför skulle den se ut just så? Skriv och berätta. Rita framsidan så som du skulle vilja ha den.

Hur tror du att det ser ut hemma hos huvudpersonen? Skriv och rita.

Gömma nummer







Vilka nummer gömmer monstren?




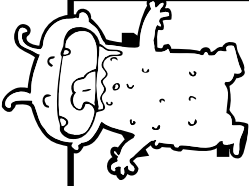


1	2	3	4	5	6		8	9	10
11	12	13	14	15	16	17	18		20
	22		24	25	26	27	28	29	30
31	32	33	34		36		38	39	
41	42	43	44	45	46	47		49	50
51	52		54	55	56	57	58	59	60
61	62	63	64	65		67	68	69	70
71		73	74	75	76	77	78		80
81	82	83	84	85	86		88	89	90
	92	93		95	96	97		99	100





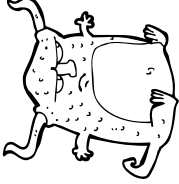


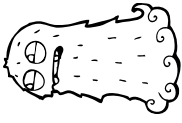

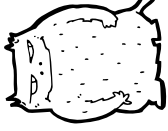
	<input type="text"/>		<input type="text"/>		<input type="text"/>		<input type="text"/>
	<input type="text"/>		<input type="text"/>		<input type="text"/>		<input type="text"/>
	<input type="text"/>		<input type="text"/>		<input type="text"/>		<input type="text"/>
	<input type="text"/>		<input type="text"/>		<input type="text"/>		<input type="text"/>

Gömma nummer

Vilka nummer gömmer monstren?

	1		3		5		7		9	
---	---	---	---	---	---	---	---	---	---	---

	12		14		16		18		20	
---	----	---	----	---	----	---	----	---	----	---

	<input type="text"/>		<input type="text"/>		<input type="text"/>		<input type="text"/>		<input type="text"/>
	<input type="text"/>		<input type="text"/>		<input type="text"/>		<input type="text"/>		<input type="text"/>

Efterlysning!



Namn: _____

Ålder: _____

Klädsel: _____

Vår fröken är försvunnen. Hon sågs

senast _____

Beskrivning av vår fröken:

Var snäll och kontakta _____ om ni hittar henne.

Gissa mitt tal!

Ni behöver en hundraruta till varje spelare, penna. Kan spelas 2 och 2 eller i större grupp. En elev väljer ut ett tal. Nu gäller det för övriga att gissa vilket tal genom ställa frågor som man bara kan svara ja eller nej på.

Exempel: är ditt tal större än 10? Ja

Man kan nu kryssa över 1-10 på sin hundraruta.

Förslag på frågor:


Är ditt tal udda?

Är ditt tal större än 50?

Innehåller ditt tal en etta?

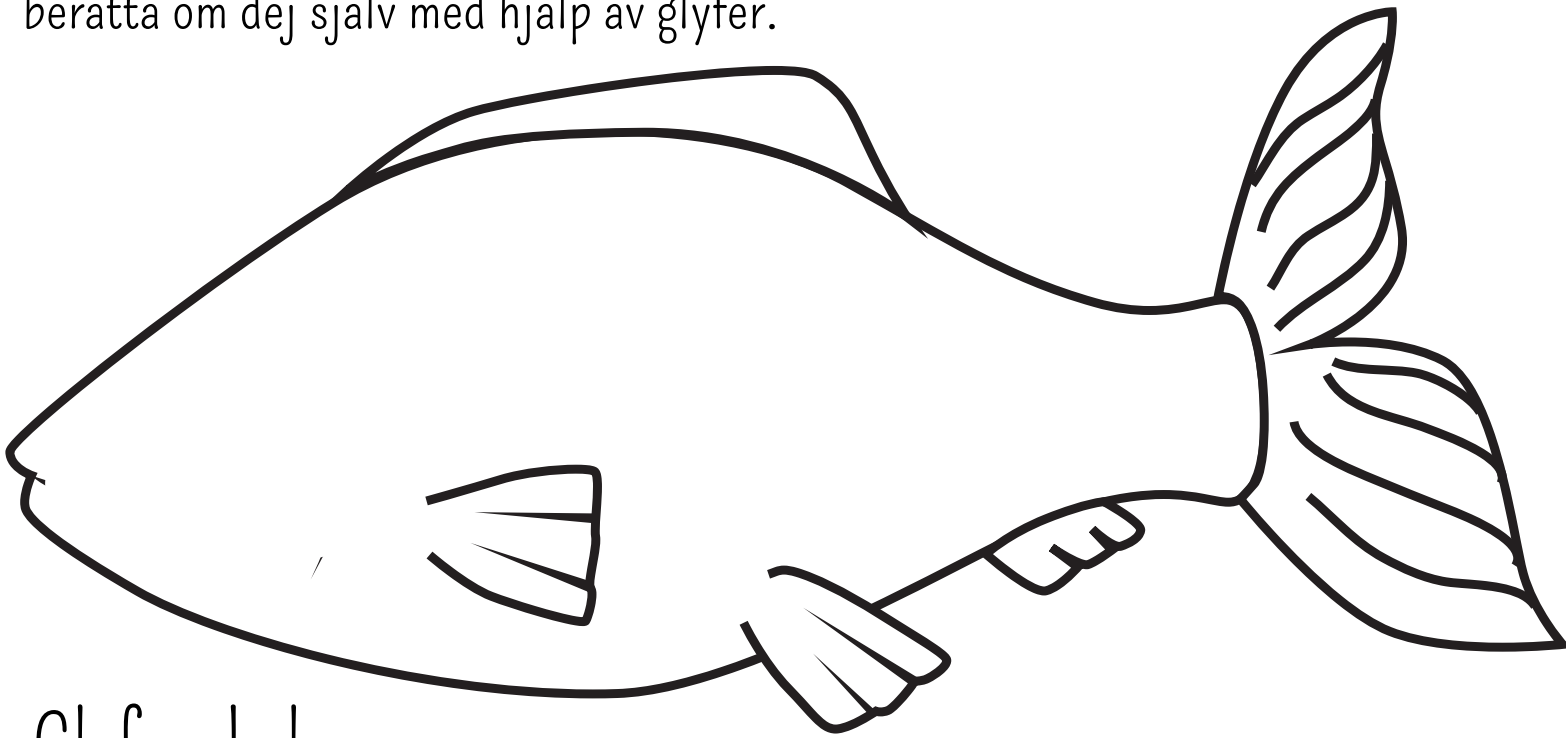
Gissa mitt tal!

1	2	3	4	5	6	7	8	9	10
11	12	13	14	15	16	17	18	19	20
21	22	23	24	25	26	27	28	29	30
31	32	33	34	35	36	37	38	39	40
41	42	43	44	45	46	47	48	49	50
51	52	53	54	55	56	57	58	59	60
61	62	63	64	65	66	67	68	69	70
71	72	73	74	75	76	77	78	79	80
81	82	83	84	85	86	87	88	89	90
91	92	93	94	95	96	97	98	99	100



Fisk med glyfer

En glyf ger en information om man har den rätta glyfnyckeln. Du ska nu få berätta om dej själv med hjälp av glyfer.



Glyfnyckel

Jag tycker bäst om katter = röda fenor

Jag tycker bäst om hundar = blåa fenor

Jag är en pojke = rita ränder på fisken

Jag är en flicka = rita prickar på fisken

Min favoritårstid är vår = fisken ska vara gul och grön

Min favoritårstid är sommar = fisken ska vara grön och lila

Min favoritårstid är höst = fisken ska vara röd och rosa

Min favoritårstid är vinter = fisken ska vara blå och gul

Rita lika många bubblor runt fisken som du är år gammal

Liknelser

Skriv in ordet som saknas i liknelsen.

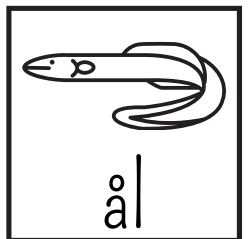
Arg som ett _____.




Hal som en _____.



Sur som en _____.




Modig som ett _____.




Fri som en _____.



Långsam som en _____.



Tyst som en _____.



Liknelser

Du ska nu få göra dina egna liknelser om dig själv!

Jag är glad som en _____.

Jag är snabb som en _____.

Jag är stor som en _____.

Jag är smart som en _____.

Jag är stark som en _____.

Jag är lugn som en _____.



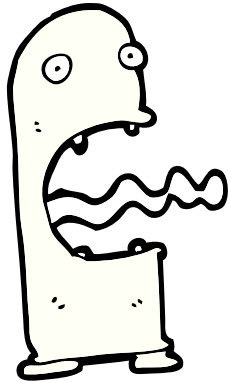
Jag är modig som en _____.

Jag är rolig som en _____.

Jag är vänskaplig som en _____.

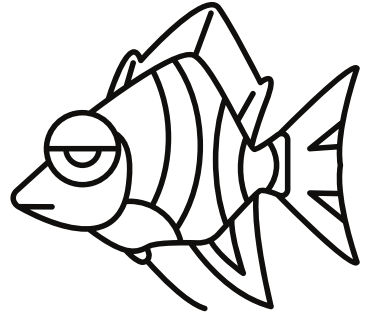



Vem?

Du ska beskriva en av figurerna. Efteråt får dina klasskompisar gissa vilken figur du har beskrivit. Kom ihåg att skriva med hela meningar.

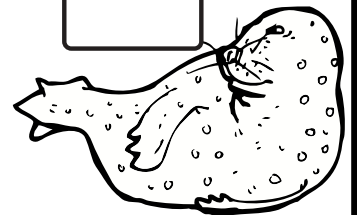








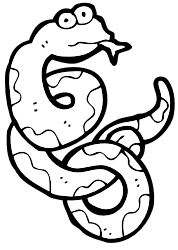


Vem?

Du ska beskriva en av fiskarna. Efteråt får dina klasskompisar gissa vilken fisk du har beskrivit. Kom ihåg att skriva med hela meningar.



Skriv rätt siffra vid varje djur



1. mus

5. orm

9. ren

2. räv

6. val

10. katt

3. ko

7. haj












11. får

4. säl

8. apa

12. gnu

Skriv rätt siffra vid varje djur



1. hund

5. fisk

9. ödla

2. gris

6. häst

10. bäver

3. kanin

7. tiger


11. fågel

4. lejon

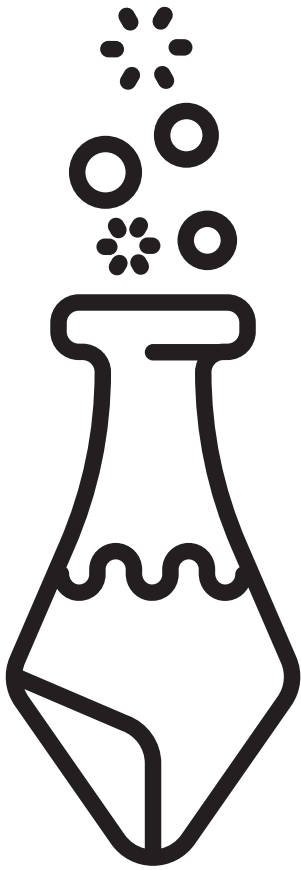
8. björn

12. larv

Skriv rätt siffra vid varje djur



- | | | |
|-------------|---------------|--------------|
| 1. igelkott | 5. älg | 9. bläckfisk |
| 2. varg | 6. sköldpadda | 10. känguru |
| 3. anka | 7. krokodil | 11. zebra |
| 4. sjöhäst | 8. krabba | 12. papegoja |




Min magiska dryck!

Du har en magisk dryck.
Skriv och berätta om
drycken. Hur ser den ut?
Hur smakar den? Vad
händer när du dricker
den?

Mina trollformler

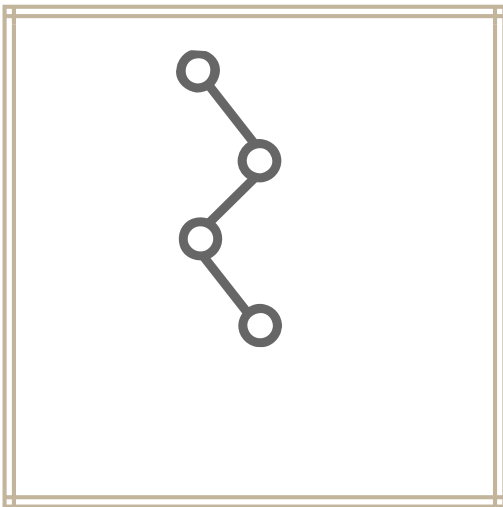
Namn:

Beskrivning:



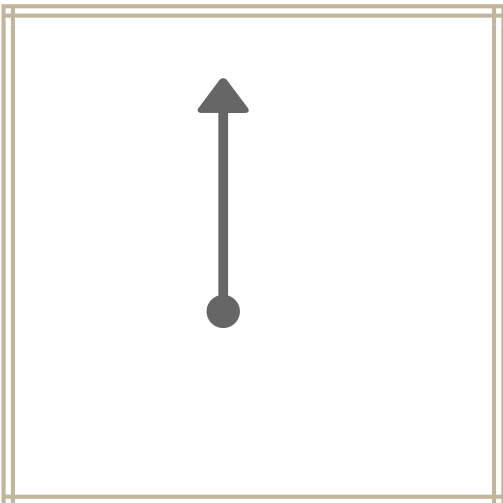
Namn:

Beskrivning:



Namn:

Beskrivning:



Mina trollformler

Namn:

Beskrivning:

Namn:

Beskrivning:

Namn:

Beskrivning:

Mitt husdjur

Alla trollkarlar har ett eget husdjur. Vanligaste husdjuren bland trollkarlar är: råtta, uggla, katt, padda och orm.

Du ska nu välja vilket djur du ska ha som husdjur och skriva en faktatext om djuret.

Börja att fylla i sexfältaren innan du skriver själva faktatexten.



Klassificering

Vilken sorts djur är det?

Utseende

Hur ser djuret ut?

Boplats

Var lever djuret?

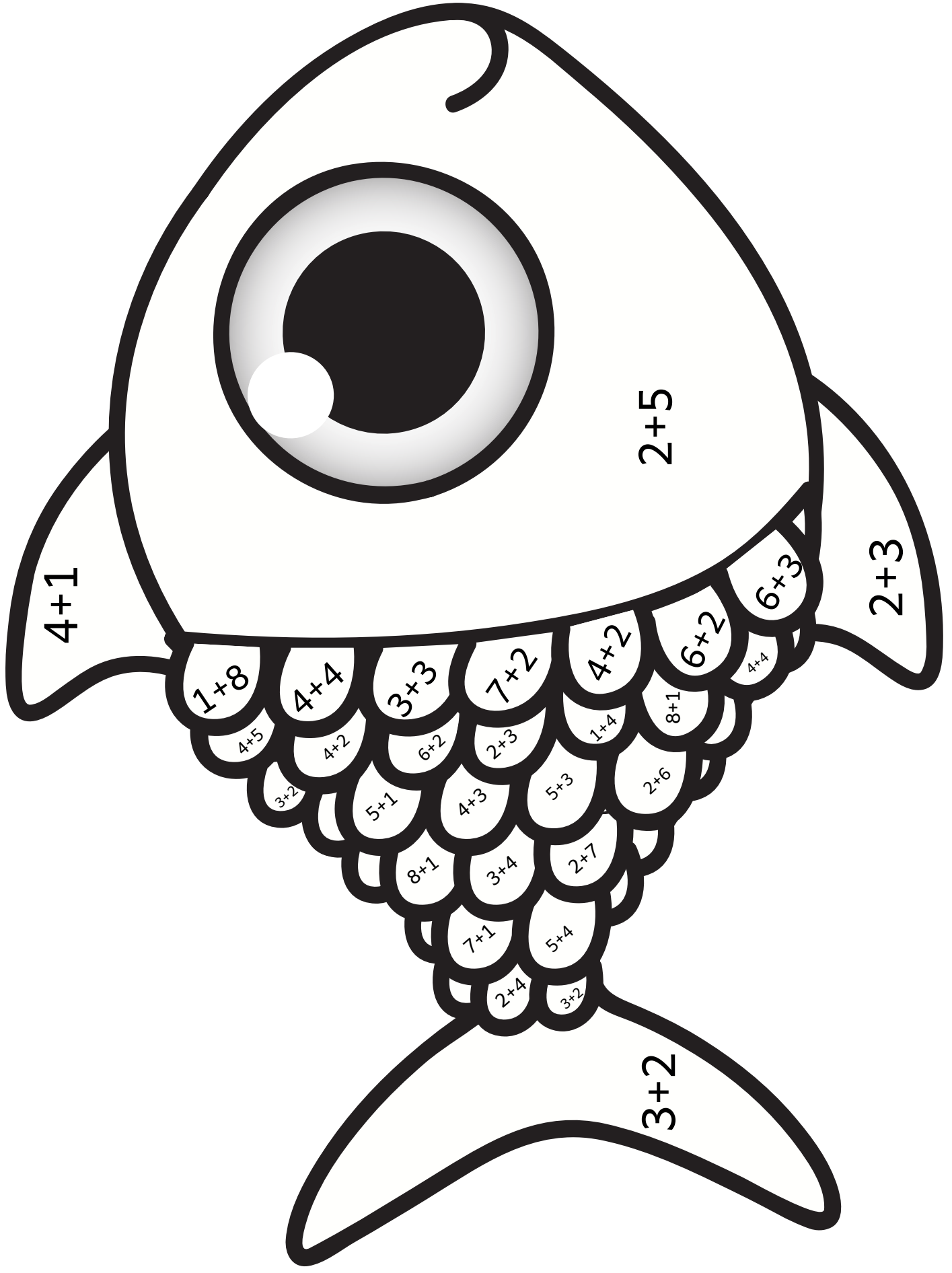
Föda

Vad äter djuret?

Fortplantning

Ungar

Övrigt



5



6



7



8



9

En egen älva/nisse

Ett gäng älvor/nissar har kommit på besök till skolan. Du ska nu bli fadder åt en egen älva/nisse. Välj ut den som ska få dej till fadder. Ge den ett namn. Skriv och berätta om din älva/nisse.

Vad heter den?

Hur gammal är den?

Vad äter den? Finns det något den gillar extra mycket att äta och finns det något den hatar?

Vad tycker den om att göra?

Hur bor den?

Är den bra på något speciellt?

Har den någon familj? husdjur?

En egen älva/nisse

Bygg ett hem till älvorna/nissarna.

Gå ut på skolgården eller gå till skogen. Bygg små hem till nissarna och älvorna.

Skriv och berätta om hemmet efteråt och rita en bild av det.








Hej klassen!

Tyvärr kan jag inte vara hos er idag. Jag hoppas att ni har kul och att ni lär er massor. Jag skulle bli väldigt glad om ni kunde skriva brev till mej. Jag hoppas att jag kommer få många långa brev!

Kram från fröken










SPELARE 1

LEJONEN OCH ÄLGARNA HAR BESTÄMT SIG FÖR ATT TA REDA PÅ VEM SOM ÄR SKOGENS KONUNG. ÄR DET LEJONET ELLER ÄLGEN? VEM VINNER KRONAN?



SPELARE 2



SPELARNAS TURAS OM ATT SLÅ EN TIOSIDIG TÄRNING OCH DUBBLAR TALET PÅ TÄRNINGEN. EN RUTA MED SVARET FÄRGLÄGGS. FÖRST ATT FÅ FYRA I RAD VINNER.



EXEMPEL:  SPELAREN FÅR NU FÄRGLÄGGA EN RUTA MED TALET 8

SPEL 1					
18	6	16	4	12	8
8	2	20	18	14	6
4	12	16	10	20	14
10	16	4	6	12	18
20	2	18	4	14	16
12	6	10	20	8	2
6	4	12	2	10	8
8	14	10	18	2	16
2	20	16	10	14	20
10	4	2	18	6	14
8	18	12	4	2	16
12	4	6	14	8	20


SPEL 2					
18	6	16	4	12	8
8	2	20	18	14	6
4	12	16	10	20	14
10	16	4	6	12	18
20	2	18	4	14	16
12	6	10	20	8	2
6	4	12	2	10	8
8	14	10	18	2	16
2	20	16	10	14	20
10	4	2	18	6	14
8	18	12	4	2	16
12	4	6	14	8	20





SPELARE 1

LEJONEN OCH ÄLGARNA HAR BESTÄMT SIG FÖR ATT TA REDA PÅ VEM SOM ÄR SKOGENS KONUNG. ÄR DET LEJONET ELLER ÄLGEN? VEM VINNER KRONAN?




SPELARE 2

SPELARNAS TURAS OM ATT SLÅ TVÅ TÄRNINGAR.

TÄRNINGARNA ADDERAS SAMMAN OCH EN RUTA MED SVARET FÄRGLÄGGS. FÖRST ATT FÅ FYRA I RAD VINNER.



EXEMPEL:





$$4 + 5 = 9$$



SPELAREN FÅR NU FÄRGLÄGGA EN RUTA MED TALET 9


SPEL 1					
2	7	12	8	10	5
11	9	4	6	2	12
3	11	5	9	12	7
12	7	4	6	3	10
9	5	2	8	4	12
4	8	11	5	6	9
11	7	9	10	11	6
2	4	3	6	3	7
9	10	8	2	5	3
3	7	10	3	11	5
8	5	2	6	8	4
4	6	12	10	7	2

SPEL 2					
2	7	12	8	10	5
11	9	4	6	2	12
3	11	5	9	12	7
12	7	4	6	3	10
9	5	2	8	4	12
4	8	11	5	6	9
11	7	9	10	11	6
2	4	3	6	3	7
9	10	8	2	5	3
3	7	10	3	11	5
8	5	2	6	8	4
4	6	12	10	7	2




EN FLER

EN FÄRRE



SPELREGLER: SLÅ EN TIOSIDIG TÄRNING. VÄLJ OM DU VILL FÄRRLÄGGA ETT TAL SOM VISAR EN FLER ELLER EN FÄRRE DET TAL SOM TÄRNINGEN VISAR. FÖRST ATT FÅ FYRA I RAD VINNER.

EN FLER
EN FÄRRE



SPELREGLER: SLÅ EN SEXSIDIG TÄRNING. VÄLJ OM DU VILL FÄRRLÄGGA ETT TAL SOM VISAR EN FLER ELLER EN FÄRRE DET TAL SOM TÄRNINGEN VISAR. FÖRST ATT FÅ FYRA I RAD VINNER.