



RYMDEN



Namn: _____

Vilket tal tänker rymdvarelsen på?



Jag tänker på ett tal.
Om jag tar bort 7 har jag 3 kvar.

Vilket är talet? _____

Jag tänker på ett tal.
Om jag gör det dubbelt så
stort så har jag 10.

Vilket är talet? _____

Jag tänker på ett tal.
Det är dubbelt så stort som 4.

Vilket är talet? _____

Jag tänker på ett tal.
Jag kan dela det i 4 delar
och alla delar är 2.

Vilket är talet? _____

Jag tänker på ett tal.
Om jag tänker det två gånger
får jag 20.

Vilket är talet? _____

Jag tänker på ett tal.
Om jag tar bort 4 har jag 6 kvar.

Vilket är talet? _____

Jag tänker på ett tal.
Om jag lägger till 6 har jag 9.

Vilket är talet? _____

Jag tänker på ett tal.
Jag kan dela det i 3 delar
och alla delar är 3.

Vilket är talet? _____

Jag tänker på ett tal.
Det är dubbelt så stort som 6.

Vilket är talet? _____

Vilket tal tänker rymdvarelsen på?



Jag tänker på ett tal.
Om jag gör det dubbelt så stort
och lägger till 4 så har jag 14.

Vilket är talet? _____

Jag tänker på ett tal.
Om jag lägger till 5 har jag 20.

Vilket är talet? _____

Jag tänker på ett tal.
Om jag lägger till 6 har jag 14.

Vilket är talet? _____

Jag tänker på ett tal.
Om jag lägger till 10 har jag 19.

Vilket är talet? _____

Jag tänker på ett tal.
Hälften av talet är 3.

Vilket är talet? _____

Jag tänker på ett tal.
Hälften av talet är 10.

Vilket är talet? _____

Jag tänker på ett tal.
Hälften av talet är 8.

Vilket är talet? _____

Jag tänker på ett tal.
Om jag tänker det två
gångar får jag 8.


Vilket är talet? _____

Jag tänker på ett tal.
Om jag gör det dubbelt så stort
och lägger till 2 så har jag 8.

Vilket är talet? _____

Lös rymdkoden.

Vilka bokstäver kommer före i alfabetet?
Skriv dem i rutorna.
Gör sedan det som koden säger.



A B C D E F G H I J K L M N O P Q R S T U V W X Y Z Å Ä Ö

S	J	U	B

Q	M	B	O	F	U	F	O

K	P	S	E	F	O

P	D	I

T	P	M	F	O

J

S	B	N	F	O

Läs texten och skriv planeternas namn.

På första plats närmast solen kommer Merkurius.

På andra plats kommer Venus.

På tredje plats kommer vår planet jorden.

Efter jorden på fjärde plats kommer Mars.


Den största planeten heter Jupiter.

På sjätte plats kommer Saturnus.


På sjunde plats kommer Uranus.

På åttonde plats kommer Neptunus.

Den sista dvärgplaneten heter Pluto.




Räkna ut talen och måla bilden.



©SCRAPPIN DEEDLES
WWW.SCRAPPINDEEDLES.COM



Gömda planeter.



Leta efter planeterna. Ringa in dem.
De kan stå både lodrätt och vågrätt.



RYMDEN
SOLEN
STJÄRNA
SOLSYSTEM
PLANETER
JORDEN

MERKURIUS
VENUS
TELLUS
MARS
JUPITER
SATURNUS

URANUS
NEPTUNUS
PLUTO

Måla rymdvarelserna.

Måla den med fyra armar lila.

Måla den prickiga med svans gul.

Måla den med fem ögon orange.

Måla den med tre ögon och långa ben röd.

Måla den prickiga med tre ögon rosa.







Måla den som inte har några armar grön.

Måla den som har mycket hår på huvudet brun.

Måla den som har horn på huvudet svart.

Måla den som har tjock päls på kroppen blå.

Måla den som är kvar i valfri färg.



Rymd-kryssa med planeterna.

första - VENUS
tredje - PLUTO
femte - MERKURIUS
sjätte - SATURNUS
åttonde - MARS
nionde - JUPITER

andra - NEPTUNUS
fjärde - TELLUS
sjunde - URANUS



1		2		
---	--	---	--	--

3					
---	--	--	--	--	--





5							
---	--	--	--	--	--	--	--

4	

6			7				
---	--	--	---	--	--	--	--

8			
---	--	--	--

9						
---	--	--	--	--	--	--



Rymd-kryss.

1

2

3

4

5


6

7







RAKET
MÅNE
STJÄRNA
PLANET
SOL
JORDEN
RYMDVARELSE




Spela ett spel med rymdvarelsen.

Kasta två tärningar och addera antalet prickar. Lägg en markör på rätt svar. Om du redan har markerat ett tal och får samma igen går turen över till nästa spelare. Den som först har fått alla tal markerade vinner.




RYMD-SUDOKU



Läs och måla bilden.

Måla månen gul. Måla stjärnan bredvid månen röd.
Jorden är grön och blå. Planeten som har en ring är brun
och gulrandig. Den andra planeten är grå. Den största
stjärnan är lila. Stjärnan ovanför den största är gul.
Den större stjärnan av de två stjärnorna som är ovanför jorden
är rosa och den mindre är blå.



Läs och måla.


Måla en rymdvarelse röd med gröna prickar.

Måla den andra rymdvarelsen tvärtom.


Måla dubbelt så många raketer gula och röda som gröna och blå.

Måla hälften av stjärnorna gula och den andra hälften blå.


Måla tre planeter bruna med en svart ring men den tredje har en lila ring.



Måla bilden i valfria färger.



Skriv och berätta hur du har målat.



Skriv rymd-meningar.

Kasta en tärningar tre gånger och läs meningen du fick. Skriv upp några av meningarna som du tyckte bäst om.

första kastet



Månen



Solen



Planeten



Rymden



Stjärnan



Raketen

andra kastet



har



hittar



ser



vill ha



önskar



får

tredje kastet



en banan.



en apelsin.



ett äpple.



en citron.




en gurka.




en tomat.

Planeten får en apelsin.



Hitta 20 kompisar.

Rymdvarelserna tycker om talet 20. Para ihop dem så att de tillsammans bildar 20 om man adderar deras siffror. Du får bestämma vilka olika färger paren ska ha





Tack för att du har laddat ner mitt material.

- Det är tillåtet att använda mitt material för privat bruk och enskilda klassuppsättningar.
- Vill du dela med dig av materialet till kollegor ber jag dig att hänvisa till min sida på skolmagi.se
- Inspireras av materialet men du får inte bearbeta eller ändra i materialet.
- Du får inte använda materialet eller bilderna för att sälja det vidare.

Hoppas att du får användning av detta i din undervisning.

Bilderna har jag köpt från
[Kate Hadfield Designs](#)

