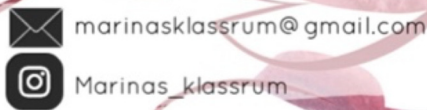


MARINAS KLASSRUM



Tack för att du har laddat ner mitt material.

- Det är tillåtet att använda mitt material för privat bruk och enskilda klassuppsättningar.
- Vill du dela med dig av materialet till kollegor ber jag dig att hänvisa till min sida på skolmagi.se
- Inspireras av materialet men du får inte bearbeta eller ändra i materialet.
- Du får inte använda materialet eller bilderna för att sälja det vidare.

Hoppas att du får användning av detta i din undervisning.

Bilderna har jag köpt från
[Kate Hadfield Designs](#)






En tipspromenad med Halloween-tema som tränar läsförståelse och matematik. Tio frågor med en sammanhängande spökberättelse.

Eleverna tränar följande matematiska innehåll: addition, subtraktion, multiplikation bråkräkning, klockan, problemlösning, vikt, volym och längd.

Materialet innehåller även en svarstalong för eleverna och ett facit.



Det är den 31 oktober och greve
Dracula har bjudit in till en
Halloweenfest på sitt slott.
Han har bjudit 18 gäster.
En tredjedel av gästerna är spöken.

Hur många spöken är bjudna?





Utanför slottet har det pyntats med 3 olika pumpor. Tillsammans väger pumporna 12 kg. Den tyngsta väger 2 kg mer än den lättaste och den mellersta väger 1 kg mindre än den tyngsta.

Vad väger var och en av de tre pumporna?





I slottsporten hänger det 8 håriga spindlar.

Hur många ben har de tillsammans?





Det är bordsplacering vid festen. Vampyrerna har speciella regler för hur de ska sitta. Det ska vara en vampyr på varannan stol. Det är dukat till 18 gäster.

Hur många av gästerna är vampyrer?





Till förrätt bjuds det på blodsoppa.
Kocken har räknat ut att det ska vara
3 dl blod till varje gäst.

Hur många liter och deciliter blod måste
han tillsätta till 18 gäster?





Under middagen pratar häxorna om sin ålder. Agata är fyrahundrafyrtiotvå år och Hilfrida är trehundra fem år.

Hur många år är de tillsammans?





Middagen serverades 20.15.

3 timmar och 45 minuter senare blir det spökdans med kedjor.

Vad är klockan då dansen börjar?





I slottstornet bor det 16 fladdermöss.
En fjärdedel av dem flyger förskräckt
iväg när dansen börjar.

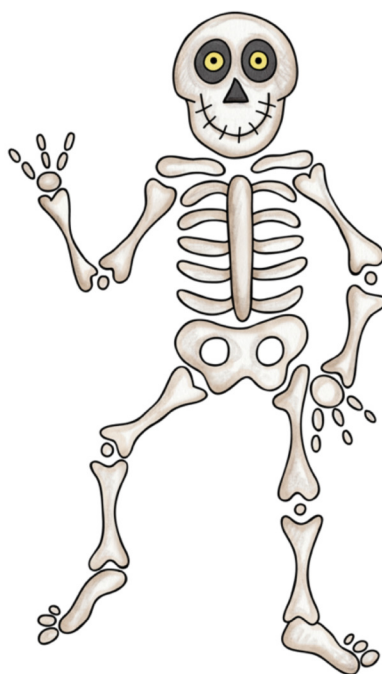
Hur många fladdermöss stannar kvar?





När festen är slut ska skelettet Benjamin hem till sin grav. Han får lift av häxan Agata på hennes kvast. Det är 6 km hem till graven. Men när de har kommit halvvägs måste de vända tillbaka till slottet för Agata har glömt sin katt.

Hur många km får Benjamin åka på häxans kvast?





När gästerna har gått hem vill Dracula städa upp innan han går och lägger sig. Någon har öppnat burken till hans husdjur. Dracula har 115 ormar. Kvar i burken är det bara 37 ormar.

Hur många ormar måste Dracula fånga in för att få tillbaka alla sina husdjur?



Halloween-tipspromenaden.

Namn: _____


Klass: _____



1	
2	
3	
4	
5	
6	
7	
8	
9	
10	



Facit till Halloween-tipspromenaden.



1	6 spöken
2	3kg, 4kg, 5kg
3	64 ben
4	9 st vampyrer
5	5 liter och 4 dl
6	747 år
7	00:00
8	12 st
9	12 km
10	78 st

