



# Mitt Halloween häfte




**Namn och klass**

*Skolprassel*

I det här häftet ska du få träna extra i matematik, svenska och engelska!

Lycka till!



Lös additionerna, använd uppställning som metod.

$222 + 325$

+				
<hr/>				

$647 + 252$

+				
<hr/>				

$933 + 35$

+				
<hr/>				

$7 + 452$

+				
<hr/>				

$184 + 814$

+				
<hr/>				


$333 + 333$

+				
<hr/>				

Storleksordna de 6 olika summorna från uträkningarna ovan.  
Börja med det minsta.



## Läs texten och svara på frågorna.



Mira och Fredrik brukar ofta spela spel tillsammans. En dag när Mira är på väg hem till Fredrik upptäcker hon något mycket märkligt i skogen intill huset han bor i. Hon ser ett svagt ljussken inne bland träden. Det börjar bli mörkt ute och fullmånen står högt på himlen. Ljusskenet från skogen blir starkare och Mira går långsamt närmare för att se vad det är som skiner. Hon hoppar över ett djupt dike innan hon kommer in bland snåret. Hon viker under några grenar från en buske och ser med förvånade ögon vad som skiner bland trästammarna. Hon har aldrig sett något liknande...


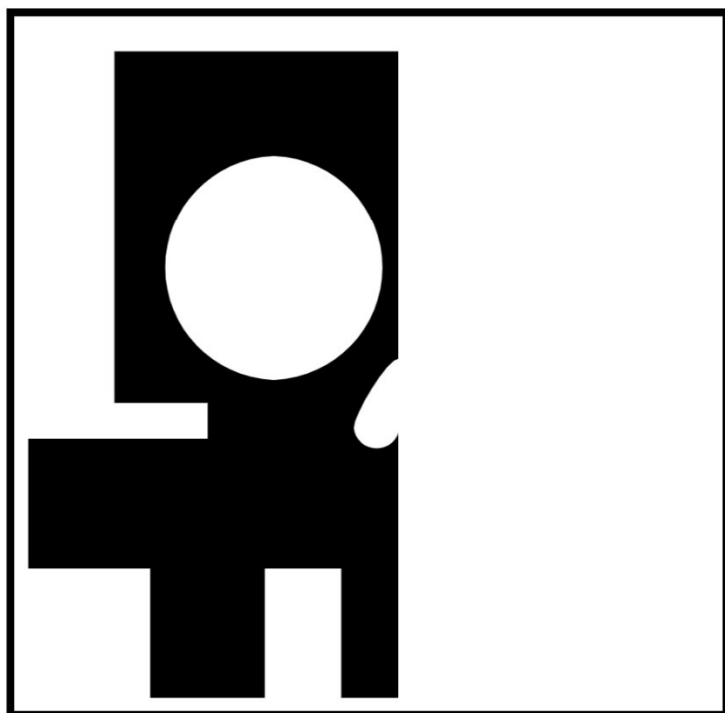
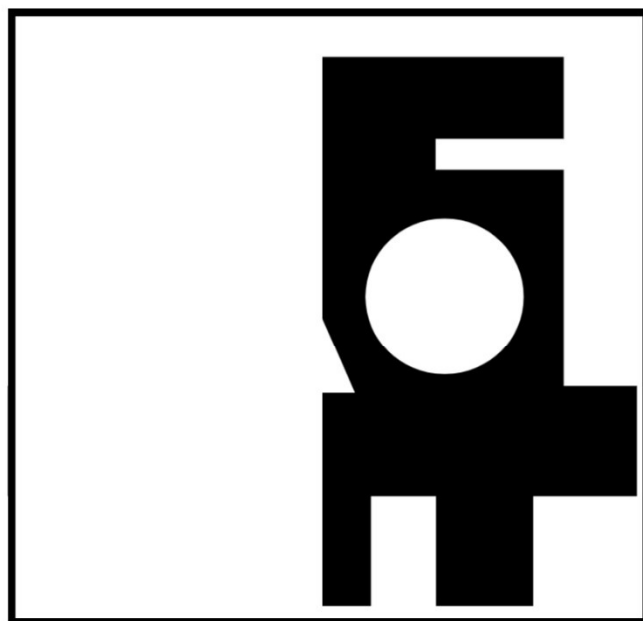

**Vad brukar Mira och Fredrik göra tillsammans?**

**Vad tror du att Mira såg där bland träden?**

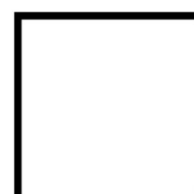






**Vad behövde Mira hoppa över för att komma till skogen?**

**Hittade du några svåra ord i texten?**




Symmetri. Måla färdigt döskaallarna.



Fortsätt mönstret.





# Vilken ska bort? kryss över och förklara.



Varför?

Varför?





Varför?

Varför?

Find and draw the colours.

g	w	y	d	f	j	j	m	c
l	p	e	b	l	u	e	f	h
b	u	l	w	h	i	t	e	a
r	r	l	g	b	l	a	c	k
o	p	o	r	a	n	g	e	w
w	l	w	e	e	p	i	n	k
n	e	v	e	s	d	o	m	s
l	l	q	n	m	ä	k	x	s







Du får endast hoppa på verben, vart hamnar du?

Börja här



Hoppa	Bil	Brun	Flaska
Köra	Springa	Skriva	Dansa
Ben	Flygplan	Studsmatta	Peka
Båt	Leka	Prata	Jobba
Nyckel	Se	Lastbil	Mobil
Pumpa	Busa	Krama	Skateboard
Lastbil	Pil	Fika	
Spöke	Soffa		



Lös uppgiften.

$$\text{key} + \text{key} = \text{pumpkin}$$

$$\text{pumpkin} + \text{pumpkin} + \text{pumpkin} = \text{skeleton}$$

$$\text{spider} + \text{skeleton} = 24$$

$$\text{key} = \square \quad \text{pumpkin} = \square \quad \text{skeleton} = 24$$

$$\text{key} \times \text{key} =$$

$$\text{pumpkin} \times \text{key} =$$





---

Det är fullmåne ute och långt bort hör Hannah en varg yla. Hon är rädd, men inte för vargarna, utan rädd för alla spöken. Det är nämligen spöktimme.

Hannah är med sin klass på läger. De ska övernatta i en gammal idrottsanläggning utanför staden där hon bor. Allt skulle ha varit jätteroligt, om det inte vore för att hon blev så mörkrädd. När fröken släker lamporna i den gamla lokalen så blir det kolsvart. Så mörkt att hon inte ens ser handen framför ansiktet.

Det är faktiskt lite konstigt att ingen annan är rädd. När Hannah tänker på det så kan hon faktiskt inte höra någonting. Hon hör inte någon!

Hon famlar fram mobiltelefonen som hon lagt långt ner i sovsäcken och lyser med ficklampan bara för att upptäcka att hon är helt ensam i den stora idrottssalen. Helt ensam och klockan är midnatt. Spöktimmen är här.

Plötsligt hör hon ett ljud. Det är ett långsamt knarrande och det kommer från städförådet. Hon lyser med ficklampan åt det hållet. Då slås dörrarna upp och



Läs texten på förra sidan och svara sedan på frågorna.


**Skriv en passande rubrik till texten ovanför texten.**




Rita tre bilder till texten.



**Berättelsen slutade mitt i. Vad tror du händer sedan?**





Colour the grave stone grey.

Colour the candy the way you like it.

Colour the pumpkin orange.

Colour the owl brown.





Colour the alien blue.

Colour the hand green.

Colour the cat black.

Colour the cat black.

Colour the hat purple.





lös uppgifterna.



$55 + 35 =$

$63 + 73 =$

$25 + 74 =$

$18 + 8 =$

$66 + 104 =$

$14 + 154 =$

$764 + 25 =$

$36 + 714 =$

$99 + 99 =$

$14 + 153 =$

$333 - 33 =$

$615 - 154 =$

$151 - 15 =$

$412 - 54 =$

$512 - 61 =$

$242 - 54 =$

$126 - 54 =$

$99 - 99 =$

$624 - 623 =$

$18 - 15 =$

---

Drakula klipper gräset vid en stor fotbollsplan. Planen är rektangulär och långsidorna är 60 meter. Kortsidorna är hälften så långa. Vad är planens omkrets?

